

**TOREK, 7. 4. 2020**

## ŠPORT

Pojdite na sprehod v naravo. Vmes izvedi 7 minut teka.

Poišči lep kotiček in tam opravi nekaj gimnastičnih vaj (razgibaj roke, trup in noge).

Ko se vrneš, večkrat zapleši ob videoposnetku:

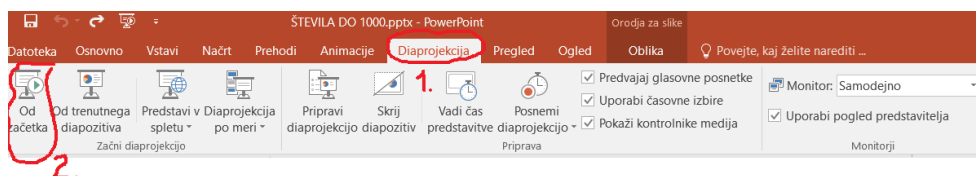
<https://www.youtube.com/watch?v=ymigWt5TOV8>

Na ples povabi člane svoje družine. Uživajte!

## MATEMATIKA: ŠTEVILA DO 1000

Tokrat sem ti pripravila nekoliko drugačno razlago snovi. Razlago si oglej v POWER POINT predstavitvi, ki jo najdeš v priponki V SPLETNI UČILNICI.

**NAVODILO:** Ko odpreš priponko, najdeš v zgornji vrstici gumb DIAPROJEKCIJA, klikneš nanj in nato še čisto na levi strani gumb OD ZAČETKA.



Če komu predstavitev ne dela, prilagam **zapisano razlago v besedi:**

### UVOD: ŠTEVILA DO 1000

*Pred nami je novo poglavje, v katerem bomo spoznali števila do 1000. Nekaterim se bo ta snov zdela čisto lahka, drugim težja. Zato sem pripravila nekoliko drugačno obliko razlage. Upam, da vam bo šlo.*

Za začetek bomo ponovili **DESETIŠKE ENOTE**.

Vsi že dobro poznamo ENICO in DESETICO. 1 DESETICA IMA 10 ENIC.

Danes bomo spoznali še STOTICO. 1 STOTICA IMA 10 DESETIC ali 100 ENIC.

In če skupaj zlepimo 10 stotic, dobimo TISOČICO. 1 TISOČICA IMA 10 STOTIC ali 100 desetic ali 1000 ENIC.

**PO 100 DO TISOČ :** Lahko šteješ zraven: 100, 200, 300, 400, 500, 600, 700, 800, 900, 1000.

Poskusi šteti še nazaj.

**ZAPIS V ZVEZEK:** Sličice lahko natisneš, če imaš možnost. Sicer slike nariši.

### ŠTEVILA DO 1000

DATUM

ENICA

DESETICA

STOTICA


TISOČICA



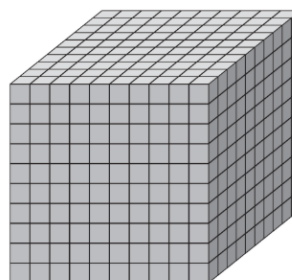
$$1E = 1$$



$$1D = 10E = 10$$



$$1S = 10D = 100E = 100$$



$$1T = 10S = 100D = 1000E = 1000$$

## PO STO DO 1000

100, 200, 300, 400, 500, 600, 700, 800, 900, 1000

Reši naloge v DZ, str. 14, 15.

Če imaš doma igro **MONOPOLI**, je krasna priložnost, da si »BANKA« in šteješ denar. Poišči bankovce po 100 in jih preštevaj do 1000 in nazaj.

## SLOVENŠČINA: NADPOMENKE in PODPOMENKE

Za začetek: Naštej nekaj IMEN. Beseda IME je **NADPOMENKA**, vse, kar si naštel/a, so **PODPOMENKE**.

**DZ, str. 57:** Pri vsaki nalogi NATANČNO PREBERI NAVODILO.

V zvezek Pisanček napiši naslov: **NADPOMENKE in PODPOMENKE** **DATUM**

Čez celo stran nariši hišo. V streho zapiši besedo ŠOLSKE POTREBŠČINE (nadopomenko), v hišo pa čim več besed, ki sodijo k potrebščinam (podpomenke).

## SPOZNAVANJE OKOLJA: PREVERIM SVOJE ZNANJE

Danes boš preveril/a svoje znanje ob interaktivnem gradivu DZ za SPO, str. 76, 77 – spodnja povezava.

[https://folio.rokus-klett.si/?credit=LIB3SDZOKO\\_2015&pages=76-77](https://folio.rokus-klett.si/?credit=LIB3SDZOKO_2015&pages=76-77)

Naloge rešuj **USTNO** ob prisotnosti enega od staršev, da te sproti preverijo, ali znaš ali ne. Kar ti ni šlo najbolje, ponovi ob zvezku za spoznavanje okolja.

REŠITVE si lahko skupaj pogledate tako, da v spodnji vrstici interaktivnega DZ **KLIKNETE NA KLJUKICO** in se izpišejo rešitve.

## GLASBENA UMETNOST: TUBA LUBA

Danes boš zapel/a z Romano Krajnčan Tubo Lubo. Vmes lahko poljubno zapeleš. Besedilo se ti prikazuje ob posnetku. Uživaj in se zabavaj!











[https://www.youtube.com/watch?v=trqQ5FHOX\\_g](https://www.youtube.com/watch?v=trqQ5FHOX_g)

Rešitve za MAT in SLJ prilagam spodaj.

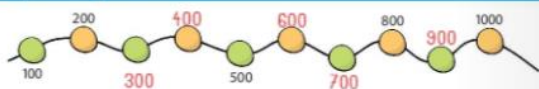
**STOP!**

**REŠITVE NALOG LAHKO POGLEDAŠ SAMO OB PRISOTNOSTI STARŠEV, KO KONČAŠ Z DELOM!**

**REŠITVE MATEMATIKA; DZ, str. 14, 15**

	sto	100	1 S
	dvesto	200	2 S
	tristo	300	3 S
	štiristo	400	4 S
	petsto	500	5 S
	šeststo	600	6 S
	sedemsto	700	7 S
	osemsto	800	8 S
	devetsto	900	9 S
	tisoč	1000	10 S

1. Dopolni in odgovori.



Ali so napisana števila soda ali liha?

Odgovor: Napisana števila so soda.

2. Štej po 100 nazaj, prični pri 1000.

1000 900 800 700 600 500 400 300 200 100

3. Štej po 100 naprej do 1000, prični pri 100.

100 200 300 400 500 600 700 800 900 1000

4. Dopolni.

	tristo	300	3 S
	petsto	500	5 S
	dvesto	200	2 S
	devetsto	900	9 S

5. Vstavi <, >, =.

7 < 9	3 > 2	9 > 2
7 S < 9 S	3 S > 2 S	9 S > 2 S
700 < 900	300 > 200	900 > 200
300 > 200	1000 < 2000	300 < 600
400 > 100	700 > 300	200 < 500
500 < 800	100 = 100	800 > 600

6. Uredi števila od najmanjšega do največjega.

300 100 500 900 1000 800 → 100 300 500 800 900 1000

200 300 800 400 100 900 → 100 200 300 400 800 900

7. Teo je zbral 200 nalepk, Tanja pa 300. Kdo ima več nalepk?

200 < 300 ali 300 > 200

Odgovor: Več nalepk ima Tanja.

# STOP!

## REŠITVE NALOG LAHKO POGLEDAŠ SAMO OB PRISOTNOSTI STARŠEV, KO KONČAŠ Z DELOM!

### REŠITVE SLOVENŠČINA; DZ, str. 57

1. V besedilu z rdečo barvico podčrtaj besede s širšim pomenom.

JEZIKARSKA



Na šolskem jedilniku je večkrat sadje. Učenci dobijo hruške, jabolka, grozdje, banane, pomaranče ali mandarine. Od zelenjave imajo najraje cvetačo, grah, fižol in zelje. Njihove najljubše pijače so kakav, čaj in limonada. Kadar se kosilo zaključi s pecivom, se najbolj razveselijo jabolčnega zavitka, potice in krofa.

2. V besedilu poišči besede z ožjim pomenom in jih napiši v preglednico.



SADJE	ZELENJAVA	PIJAČA	PECIVO
<u>hruške, jabolka</u>	<u>cvetača</u>	<u>kakav</u>	<u>jabolčni zavitek</u>
<u>grozdje</u>	<u>grah</u>	<u>čaj</u>	<u>potica</u>
<u>banane, pomaranče</u>	<u>fižol</u>	<u>limonada</u>	<u>krof</u>
<u>mandarine</u>	<u>zelje</u>		

3. V vsaki vrsti z rumeno barvo pobarvaj vsiljivca.

sok	malinovec	sod	mleko	čaj	kakav
Skupina, kamor spadajo nepobarvane besede, se imenuje <u>pijača</u> .					
zelje	krompir	buča	elektrika	paradižnik	brokoli
Skupina, kamor spadajo nepobarvane besede, se imenuje <u>zelenjava</u> .					
glava	kriilo	pulover	majica	suknjič	plašč
Skupina, kamor spadajo nepobarvane besede, se imenuje <u>oblačila</u> .					

4. Napiši besede z ožjim pomenom.

šport: nogomet, košarka, drsanje, smučanje

plavanje, atletika ...

jedilni pribor: žlica, nož, vilice ...

živali: zajec, lastovka, mravlja, žirafa, pingvin ...

Beseda **oblačila** je beseda s širšim pomenom ali nadpomenka. Besede **kriilo, hlače** in **jopica** so besede z ožjim pomenom ali podpomenke.